

L3SPI Conception : rattrapage

- ✓ Indiquez votre numéro d'anonymat sur l'entête de chacune des feuilles.
- ✓ L'intégralité du dossier est à rendre en fin d'évaluation : vous répondrez aux questions dans l'espace réservé.
- ✓ TOUTES LES APPLICATIONS NUMERIQUES DOIVENT ETRE PRECEDEES DES FORMULES EMPLOYEES SOUS PEINE DE NULLITE DE LA REPONSE

EMBRAYAGE FREIN ET REDUCTEUR

Mise en situation :

Le mécanisme étudié fait partie de la transmission du mouvement d'avance d'une machine-outil conventionnelle. Un moteur transmet son mouvement de rotation à ce mécanisme à l'aide d'une transmission par courroie trapézoïdale.

Ce mécanisme transmet ce mouvement lorsqu'on est en position embrayé ou freine l'arbre de sortie lorsqu'on est en position débrayé. C'est la fonction embrayage-frein. De plus, ce mécanisme permet la sélection de deux rapports de transmission entre l'entrée et la sortie. C'est la fonction réducteur.

Vous trouverez le dessin d'ensemble du mécanisme complet en format A3 (Document Technique DT1), ainsi que sa nomenclature au format A4 (DT2).

Fonction embrayage-frein :

La commande de l'embrayage-frein est électromagnétique. Elle est assurée par le bobinage électromagnétique 3. Lorsque celui-ci est alimenté, il exerce un effort d'attraction sur le disque d'embrayage-frein 21. Le mécanisme est alors en position embrayé. Lorsque le bobinage n'est plus alimenté, les quatre ressorts 17 repoussent le disque 21 contre la cloche 2. Le mécanisme est alors en position frein.

- Données :*
- Effort d'attraction de la bobine 3 sur le disque 21 ; $F_B=1\ 000\ \text{N}$;
 - Effort de poussée de chaque ressort 17 sur le disque 21 : $F_R=50\ \text{N}$ (Effort constant)
 - Coefficient de frottement entre les garnitures 22 et la cloche 2 et le plateau 4 : $f=0,3$.

Fonction réducteur :

Le réducteur a deux rapports de transmission. Cela permet deux vitesses à la sortie du mécanisme. En vitesse normale, le rapport de transmission est de $r_N=1$. En vitesse lente, la vitesse de rotation est réduite par un train d'engrenages, constitué de deux engrenages droits à denture hélicoïdales. Les modules et nombres de dents des roues et pignons sont donnés dans la nomenclature.

Le dessin sur DT1 représente le mécanisme dans la position point mort : aucun des deux rapports (vitesse normale ou vitesse lente) n'est engagé.

La sélection des deux rapports se fait par une commande manuelle (non représentée sur le DT1) qui permet la translation du crabot 46 vers la droite ou la gauche.

Moteur et transmission par courroie :

Le moteur qui transmet le mouvement délivre une puissance de 500 W. Cette puissance est transmise à la poulie 10 par une courroie trapézoïdale.

- Données :
- On supposera que le rendement est de 1
 - Vitesse nominale de rotation du moteur : $N_m = 1\,450 \text{ tr/mn}$;
 - Rapport de transmission par courroie : $r_c = \frac{N_{10}}{N_m} = 0,35$

QUESTIONS

1) Analyse du fonctionnement

On donne ci-dessous la composition de certains groupes fonctionnels du mécanisme :

Groupe 1 (Support 1) : {1,2,3,19,20,23,24,31,32,33,35,38,39,42,53}

Groupe 12 (arbre d'entrée 12) : {6,7,11,12,36,47,48,49,51}

Groupe 10 (poulie 10) : {4,5,9,10,13,14,15,16,18}

Groupe 29 (Arbre intermédiaire 29) : {26,27,28,29,34}

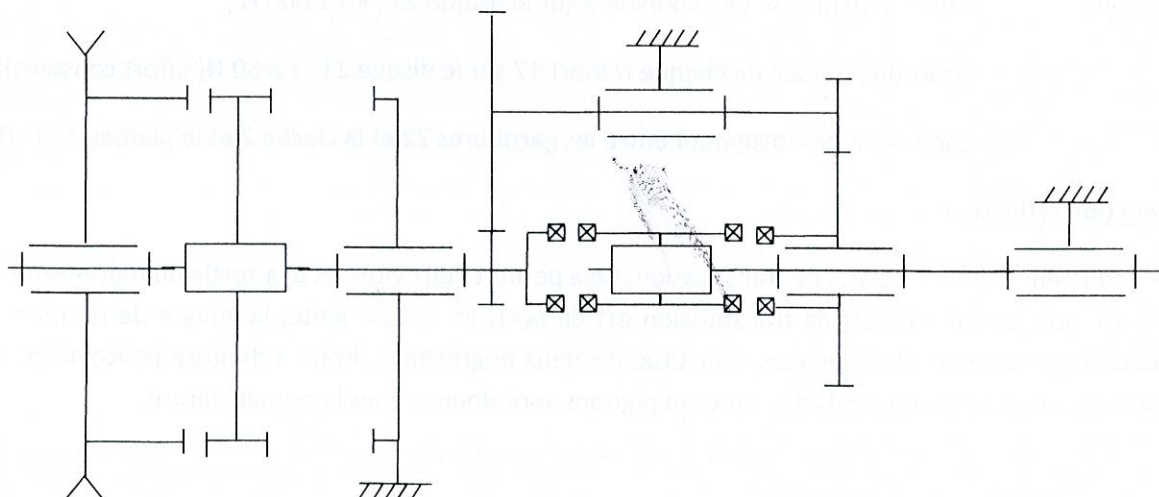
Groupe 45 (roue de sortie 45) : {43,45}

Groupe 21 (Disque 21) : {21,22}

Groupe 40 (Arbre de sortie 40) : {40,41,44}

Crabot 46 : {46}

On vous donne le schéma cinématique du mécanisme en position embrayé et au point mort :



Q1-1 Sur ce schéma cinématique,

- placez, sous le crabot, une flèche **bleue** indiquant le sens de déplacement du crabot pour passer la vitesse normale. Indiquez aussi, sur le DT1, une flèche **bleue** indiquant par où passe la puissance depuis la poulie jusqu'à l'arbre de sortie lorsque cette vitesse normale est passée.
- placez, sous le crabot, une flèche **verte** indiquant le sens de déplacement du crabot pour passer la vitesse lente. Indiquez aussi, sur le DT1, une flèche **verte** indiquant par où passe la puissance depuis la poulie jusqu'à l'arbre de sortie lorsque cette vitesse lente est passée.

Q1-2 Sur ce schéma cinématique, indiquez par des bulles où se trouve chaque groupe cinématique donné page précédente (indiquez le numéro du groupe uniquement dans la bulle, et pointez sur un trait correspondant au groupe concerné).

Q1-3 Sur ce schéma cinématique, attribuez une couleur à chaque groupe et repassez le schéma cinématique avec les traits de couleur adéquats.

2) Analyse de solutions technologiques

Q2-1 Quel est le nom précis des roulements 37 ?

Q2-2 Quel est le type de montage des roulements 37 (palier fixe/palier libre ou en opposition en X ou en opposition en O) ?

Q2-3 quel élément technologique (désignation et numéro) assure le guidage en rotation de la roue de sortie par rapport à l'arbre de sortie ?

Q2-4 Dans la liaison encastrement entre le bouchon de sortie 38 et le carter 1, indiquer précisément comment est assurée la mise en position et comment est assuré le maintien en position ?

3) Liaison pivot par roulements 50 et 52.

Q3-1 A partir du dessin d'ensemble, identifier le roulement supportant la charge axiale. En déduire le type de montage réalisé.

Q3-2 Nommer les solutions technologiques (ex : épaulement dans ..., anneau élastique, etc...) permettant d'assurer les arrêts axiaux sur ces roulements

Pour le roulement 52 :

Pour le roulement 50 :

Q3-3 Sachant que la bague intérieure des roulements tourne par rapport à la direction de la charge, donner les ajustements suivants (serrées ou coulissantes puis valeurs de tolérance ISO) :

- ajustement BI/arbre 12 : Tolérance des portées de l'arbre 12 :
- ajustement BE/carter 1 : Tolérance des portées du carter 1 :

Q3-4 Indiquer sur le document DT1 format A3 les ajustements entre l'arbre et chaque roulement d'une part, entre le logement et chaque roulement d'autre part.

Le roulement de gauche référence 6306 supporte une charge radiale de 6500 N ainsi que la totalité de la charge axiale estimée à 900 N

Le roulement de droite référence 6206 supporte une charge radiale de 3700 N.

On prendra comme vitesse de rotation de l'arbre 10 : $N_{10} = 500 \text{ tr/mn}$

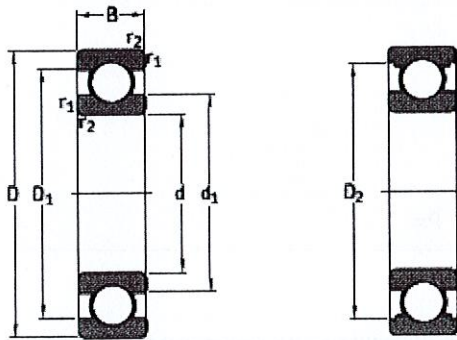
Vous trouverez en page 7 un extrait de catalogue de roulements.

Q3-5 Détermination de la durée de vie des roulements.

a) Donner, pour chaque roulement, les charges de base statiques et dynamiques :

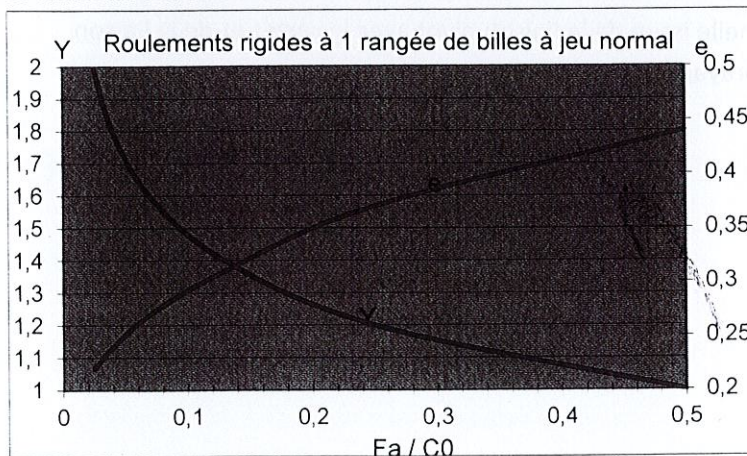
<p>Roulement 52, Ref 6306 :</p> <p>$C_0 =$</p> <p>$C =$</p>	<p>Roulement 50, Ref 6206 :</p> <p>$C_0 =$</p> <p>$C =$</p>
---	---

Documentation roulement (extrait catalogue SKF)



Dimensions d'encombrement			Charges de base		Limite de fatigue	Vitesse de base		Masse	Désignation
d	D	B	dynamique C	statique C ₀		Vitesse de référence	Vitesse limite		
mm			kN		kN	tr/min		kg	-
25	37	7	4,36	2,6	0,125	38 000	24 000	0,022	61805
	42	9	7,02	4,3	0,193	36 000	22 000	0,045	61905
	47	8	8,06	4,75	0,212	32 000	20 000	0,06	* 16005
	47	12	11,9	6,55	0,275	32 000	20 000	0,078	* 6005
	52	15	14,8	7,8	0,335	28 000	18 000	0,13	* 6206
	52	15	17,8	9,8	0,4	28 000	18 000	0,12	6206 ETN9
	62	17	23,4	11,6	0,49	24 000	16 000	0,29	* 6306
	62	17	26	13,4	0,57	24 000	16 000	0,22	6306 ETN9
	80	21	35,8	19,3	0,815	20 000	13 000	0,54	6406
	28	58	16	16,8	9,5	0,405	26 000	16 000	0,17
68		18	25,1	13,7	0,585	22 000	14 000	0,3	63/28
30	42	7	4,49	2,9	0,146	32 000	20 000	0,025	61806
	47	9	7,28	4,55	0,212	30 000	19 000	0,049	61906
	55	9	11,9	7,35	0,31	28 000	17 000	0,089	* 16006
	55	13	13,8	8,3	0,355	28 000	17 000	0,12	* 6006
	62	16	20,3	11,2	0,475	24 000	15 000	0,2	* 6206
	62	16	23,4	12,9	0,54	24 000	15 000	0,18	6206 ETN9
	72	19	29,6	16	0,67	20 000	13 000	0,35	* 6306
	72	19	32,5	17,3	0,735	22 000	14 000	0,33	6306 ETN9
	90	23	43,6	23,6	1	18 000	11 000	0,75	6406

Coefficient e X et Y



Fa/C0	e	X	Y
0.025	0.22	0.56	2
0.04	0.24	0.56	1.8
0.07	0.27	0.56	1.6
0.13	0.31	0.56	1.4
0.25	0.37	0.56	1.2
0.5	0.44	0.56	1

BAREME :

Q1-1 1.5 points

Q1-2 2 points

Q2-1 0,5 point

Q2-2 0,5 point

Q2-3 0,5 point

Q2-4 1 point

Q3-1 1 point

Q3-2 2 points

Q3-3 2 points

Q3-4 1,5 points

Q3-5 Détermination de la durée de vie des roulements.

a) 1 point

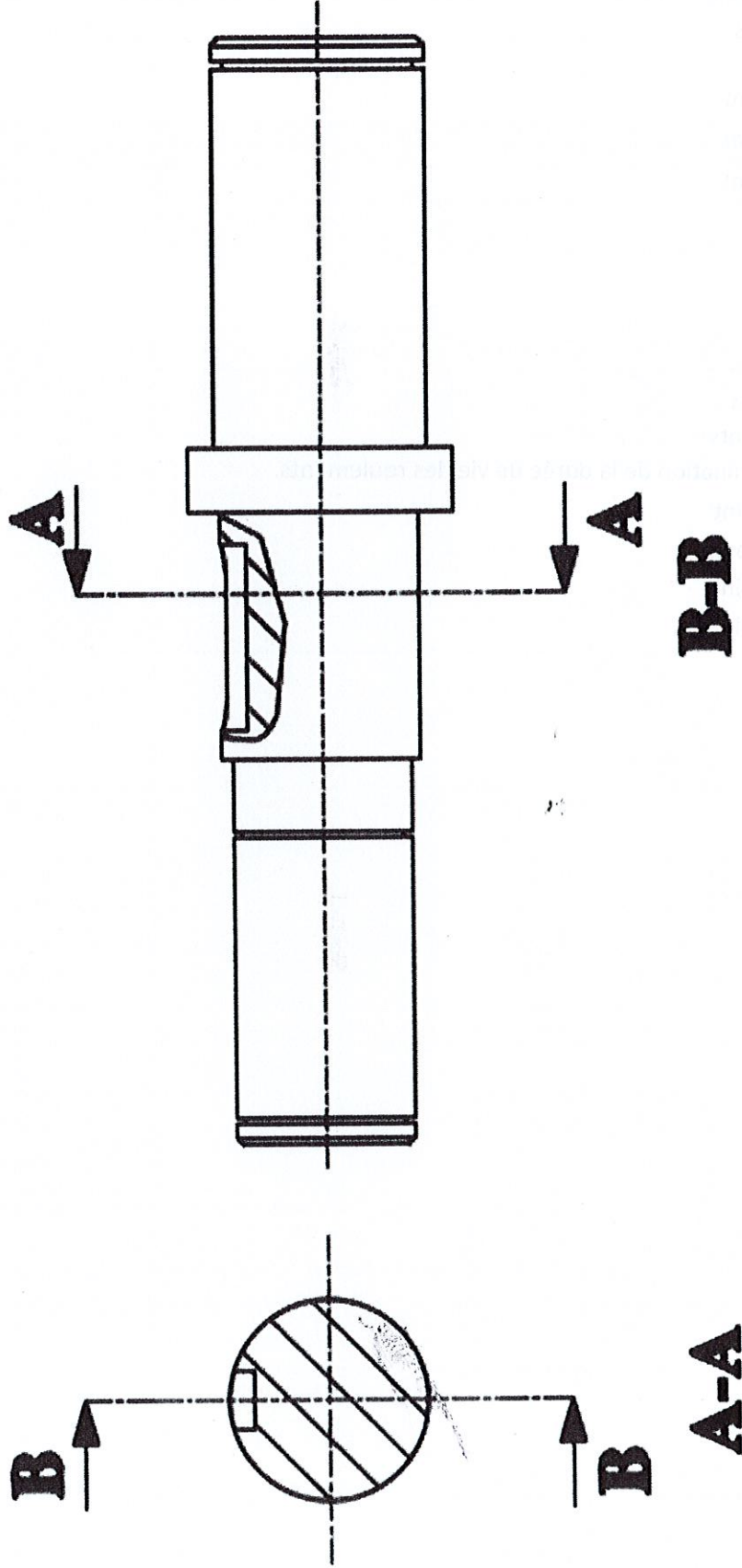
b) 1,5 point

c) 2 points

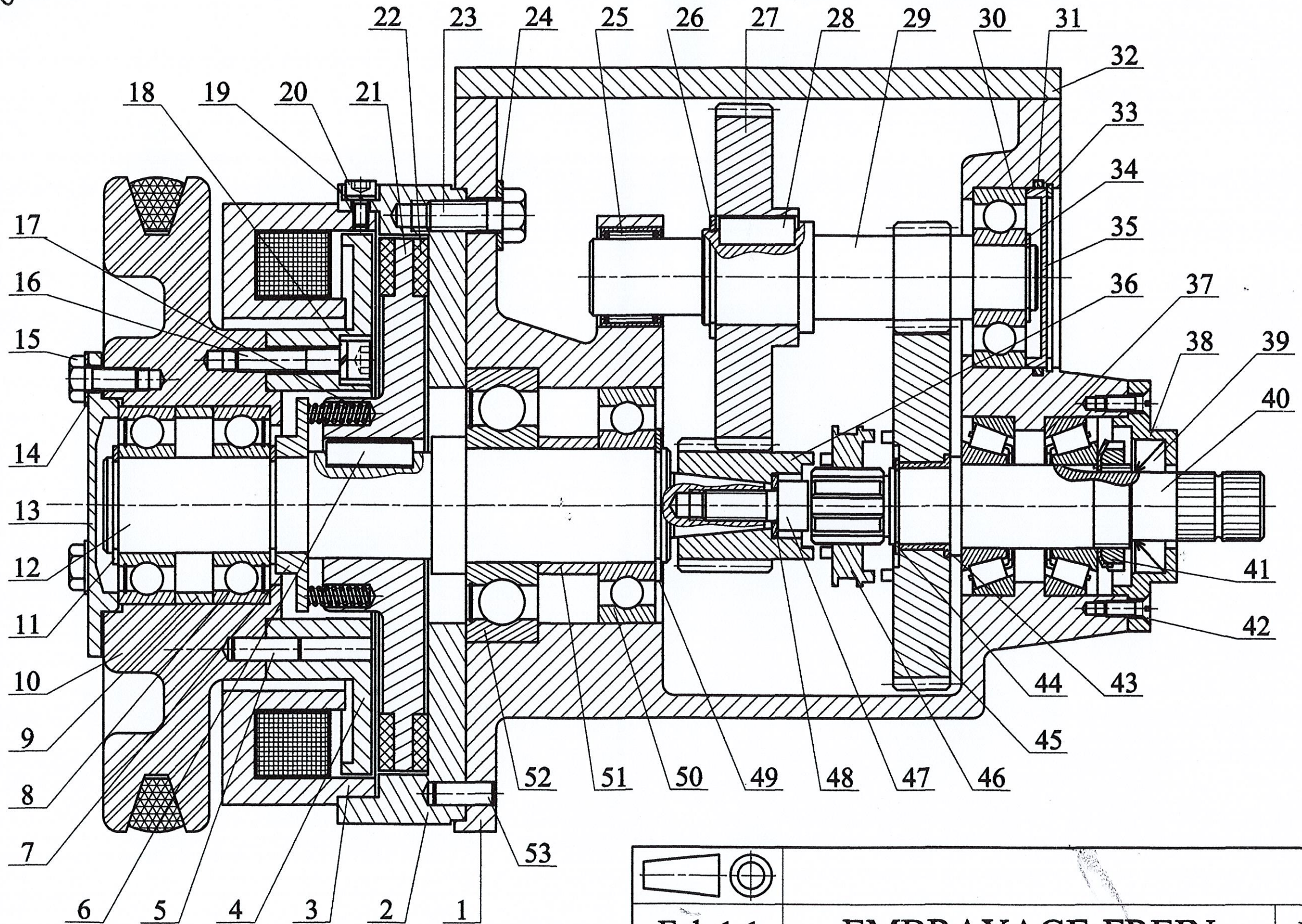
d) 1 point

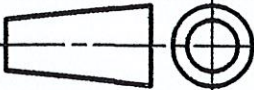
4) 2 points

DOCUMENT REPONSE 1: Dessin de définition de l'arbre 12



N° Anonymat :



	Ech:1:1		EMBAYAGE-FREIN REDUCTEUR	DT1
	Format A3H			